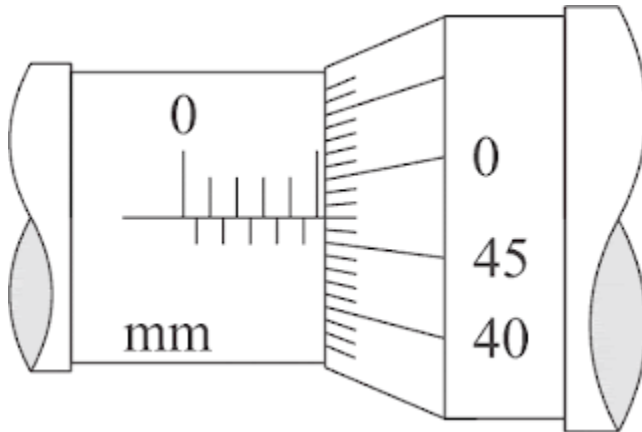


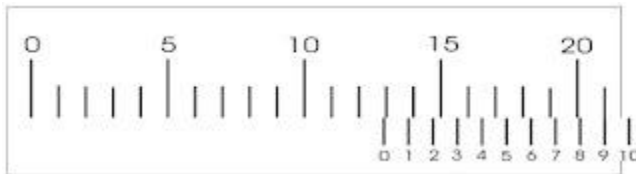
# CONTOH SOAL JANGKA SORONG PILIHAN GANDA

## A. Apa arti sandi morse dibawah ini!

1. Berapakah nilai dari pengukuran mikrometer dibawah?




- a. 10.3 mm
  - b. 1.47 mm
  - c. 5.47 mm
  - d. 47.5 mm
  - e. 5.45 mm
2. Hasil pengukuran jangka sorong di bawah adalah ....



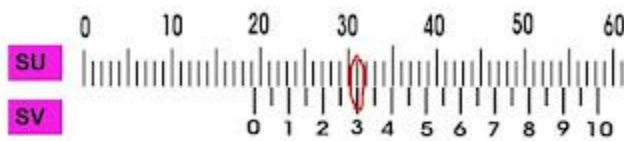
- a. 13,90 mm
  - b. 13,70 mm
  - c. 12,21 mm
  - d. 12,90 mm
3. Hasil pengukuran dengan jangka sorong di bawah adalah ....

## CONTOH SOAL JANGKA SORONG PILIHAN GANDA



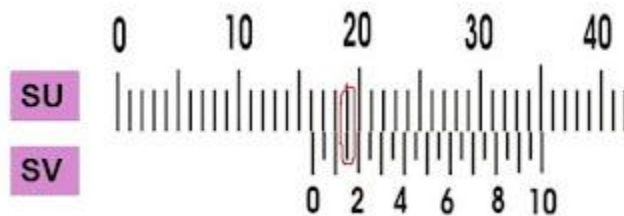
- a. 3,50 mm
- b. 0,20 mm
- c. 0,32 mm
- d. 3,20 mm

4. Hasil pengukuran dengan jangka sorong di bawah adalah ....



- a. 19,30 mm
- b. 18,30 mm
- c. 19,35 mm
- d. 18,20 mm


5. Hasil pengukuran dengan jangka sorong di bawah adalah ....



- a. 30.00
- b. 30.85
- c. 29.80
- d. 29.85

6. Hasil pengukuran dengan jangka sorong di bawah adalah ....

# CONTOH SOAL JANGKA SORONG PILIHAN GANDA



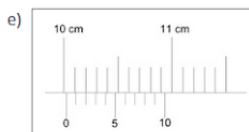
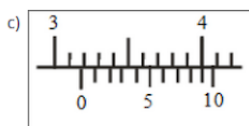
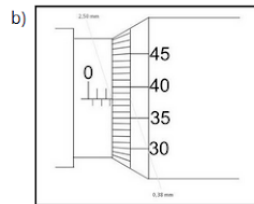
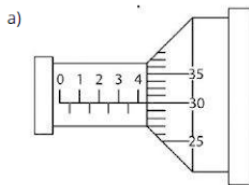
- a. 16,20 mm
- b. 10,15 mm
- c. 16,15 mm
- d. 16,05 mm

7. Hasil pengukuran dengan jangka sorong di bawah adalah ....



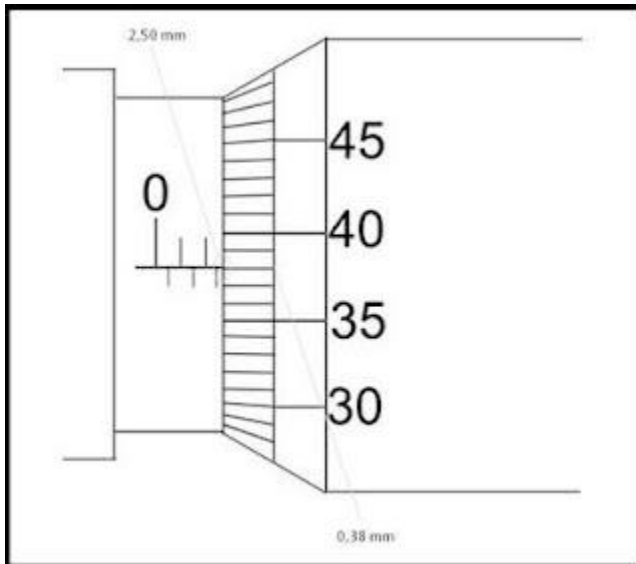
- a. 13,04 mm
- b. 13,00 mm
- c. 15,00 mm
- d. 13,02 mm

8. jika hasil pengukuran dengan jangka sorong bernilai 10.2 mm. Gambar yang sesuai adalah....



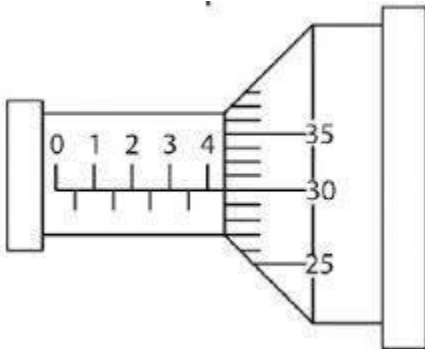
## CONTOH SOAL JANGKA SORONG PILIHAN GANDA

9. Berapakah hasil dari pengukuran mikrometer disamping?



- a. 3.88 mm
- b. 0.2 mm
- c. 3.38 mm
- d. 2.88 mm
- e. 2.38 mm

10. berapakah hasil pengukuran mikrometer disamping?



- a. 4.34 mm
- b. 4.30 mm
- c. 5.30 mm
- d. 30.4 mm
- e. 40.30 mm

# CONTOH SOAL JANGKA SORONG PILIHAN GANDA

## B. Kunci jawaban soal diatas

- 1.c
- 2.d
- 3.d
- 4.a
- 5.d
- 6.c
- 7.a
- 8.e
- 9.d
- 10.b