

CONTOH SOAL KSM IPS MTS

A. Kerjakan beberapa soal berikut ini!

1. Banyak generasi muslimah milenial Indonesia menjadi fans K-Pop. Mereka menunjukkan identitas sebagai fans kelompok musik Korea ini dalam bentuk gaya berbusana. Pada prinsipnya praktik berbusana ini menunjukkan gejala...
 - A. Mobilisasi budaya
 - B. Akulturasi budaya
 - C. Afirmasi budaya
 - D. Asimilasi budaya
2. Setiap awal bulan Ibu Fatimah membeli bahan pokok beras di pasar desa karena harga lebih murah jika dibandingkan dengan harga beras di supermarket. Beras itu kemudian diberikan kepada tetangganya yang tergolong dalam kelompok fakir miskin. Motif yang dilakukan oleh Ibu Fatimah dapat dikelompokkan sebagai...
 - A. Motif budaya
 - B. Motif ekonomi
 - C. Motif agama
 - D. Motif sosial
3. Pak Amir merubah jenis tanaman di ladangnya setelah melakukan refleksi terhadap kegagalan panen akibat ketidakpastian cuaca pada tahun tanam sebelumnya. Apa yang dilakukan Pak Amir ini menunjukkan bahwa tindakan manusia dipengaruhi oleh...
 - A. Faktor alam
 - B. Faktor sosial
 - C. Faktor ekonomi
 - D. Faktor budaya
4. Nilai dan budaya Islam di Indonesia mulai berkembang sejak abad 13 M dipengaruhi oleh kebudayaan yang dibawa oleh para pedagang Arab dan India. Perkembangan Islam ini menunjukkan...
 - A. Letak astronomi berpengaruh terhadap budaya penduduk
 - B. Letak astronomi berpengaruh terhadap mata pencaharian
 - C. Letak geografis berpengaruh terhadap mata pencaharian
 - D. Letak geografis berpengaruh terhadap budaya penduduk
5. Pada waktu makan seorang muslim diajarkan untuk menghabiskan dan tidak menyisakan makanan. Nilai Islam ini dapat dilakukan jika...
 - A. Konsumsi berdasarkan jumlah pendapatan
 - B. Konsumsi dilakukan sesuai status sosial
 - C. Konsumsi dilakukan tidak berlebihan

CONTOH SOAL KSM IPS MTS

- D. Konsumsi mengikuti prinsip ekonomi
6. Pak Ahmad memberikan pinjaman tanpa bunga kepada usaha informal yang dimiliki oleh beberapa warga muslim di kota Surabaya. Dalam konteks masyarakat Indonesia yang sebagian besar adalah Islam, tindakan yang dilakukan oleh Pak Ahmad sangat tepat karena usaha informal...
- A. Semakin kecil sudut elevasi maka pancaran dapat membuka lapangan kerja
 - B. Dapat meningkatkan devisa negara
 - C. Tidak memiliki alat yang canggih
 - D. Tidak membutuhkan pendidikan khusus
7. Pak Rahmad adalah penjual kopi terkenal di wilayah kabupaten Banyuwangi Jawa Timur. Untuk memaksimalkan margin dan menjaga kualitas rasa, Pak Ahmad melakukan pengolahan sendiri kopi yang dijualnya. Perilaku Pak Ahmad ini dapat dikategorikan sebagai...
- A. Produsen negara
 - B. Produsen swasta
 - C. Produsen perusahaan
 - D. Produsen rumah tangga
8. Islam berkembang di Indonesia dengan beragam strategi. Salah satunya adalah dengan penciptaan karya sastra dan pertunjukan seni yang mengelaborasi karya periode sebelumnya. Realitas ini menunjukkan bahwa...
- A. Islam melakukan asimilasi dengan budaya lokal
 - B. Islam identik sama dengan budaya lokal
 - C. Islam menyesuaikan dengan setting budaya lokal
 - D. Islam bersinergi dengan budaya lokal
9. Masa food producing dapat dipahami sebagai perkembangan peradaban manusia yang mampu memproduksi barang kebutuhan pangan tanpa harus berburu dan meramu. Jika dikaitkan dengan ajaran Islam, konsep ini bersesuaian dengan cerita...
- A. Tafsir mimpi Nabi Yusuf
 - B. Persembahan Habil dan Qabil
 - C. Istana Nabi Sulaiman
 - D. Pembuatan perahu Nabi Nuh
10. Aceh merupakan salah satu daerah yang terkena bencana Tsunami. Dari catatan sejarah menunjukkan bahwa terjadi perubahan pola pemukiman warga dari dataran rendah ke tinggi dan sebaliknya. Kondisi ini menunjukkan...
- A. Pemukiman warga mengikuti letak ketinggian daratan

CONTOH SOAL KSM IPS MTS

- B. Budaya masyarakat Aceh memandu berkembangnya pemukiman
 - C. Pemukiman masyarakat mengikuti kebijakan negara/kerajaan
 - D. Masyarakat belajar dari pengalaman kebencanaan
11. Dampak perang dagang antara negara China dan Amerika telah berimbas pada turunnya daya beli petani Karet di Sumatera. Kondisi ekonomi masyarakat Sumatera ini dikarenakan...
- A. Produksi karet alam mengalami kenaikan
 - B. Penawaran adanya barang substitusi karet
 - C. Konsumsi karet alam di negara China naik
 - D. Permintaan karet alam dari negara China menurun
12. Transmigrasi merupakan salah satu bentuk politik etis yang dijalankan oleh pemerintah kolonial Hindia Belanda pada awal abad 19. Kebijakan ini diambil untuk...
- A. Mengedukasi penduduk di lokasi transmigrasi
 - B. Memeratakan kesenjangan sosial ekonomi masyarakat
 - C. Menyediakan tenaga kerja perkebunan di luar Jawa
 - D. Mengurangi kepadatan penduduk di Jawa
13. Jalan Pos Daendels yang menghubungkan wilayah Anyer dengan Panarukan dibangun pada zaman Kolonial. Perubahan dan perkembangan pemerintahan dari masa ke masa telah menyebabkan perubahan awal fungsi jalan tersebut, kecuali...
- A. Untuk pertunjukan seni dan budaya
 - B. Untuk mobilitas militer
 - C. Untuk mendukung aktivitas ekonomi
 - D. Untuk memperbaiki kualitas pertanian
14. Liberalisasi ekonomi memungkinkan ekspansi satu unit usaha bisnis global di Indonesia. Salah satu usaha global yang menjamur adalah ritel fastfood. Yang termasuk usaha ritel ini adalah...
- A. Pizza Hut, Hoka-Hoka Bento, dan Fanta
 - B. McDonald, KFC, dan Coca-Cola
 - C. CFC, KFC, dan TFC
 - D. Dunkin Donuts, McDonald, dan Carrefour
15. Pernyataan yang tepat untuk gambar di bawah ini adalah....

CONTOH SOAL KSM IPS MTS



- A. Masyarakat dan Singapura dapat beraktivitas secara normal
B. Aktivitas warga Malaysia tidak terhalang dengan adanya asap
C. Asap pembakaran lahan di Sumatera dan Kalimantan mengganggu aktivitas warga negara Malaysia
D. Warga Singapura terimbas adanya kabut asap hasil pembakaran lahan di Sumatera dan Kalimantan
16. Singapura dikenal sebagai satu eksportir Bahan Bakar Minyak (BBM) ke Indonesia. Kemampuan ini tidak lepas dari...
- A. SDM dengan pendidikan tinggi
B. Kebijakan ekonomi berorientasi ekspor
C. Memiliki sumberdaya minyak berlimpah
D. Kapasitas produksi kilang melebihi kebutuhan
17. Perhatikan tabel produk yang dihasilkan oleh satu pekeja di negara ASEAN dalam satu hari!

Produk	Kain/Meter	Sepatu/Pasang	Baju/Buah	Kaos Kaki/Pasang	Kancing/Biji
Indonesia	75	56	75	45	75
Filipina	67	60	65	67	65
Thailand	83	40	56	76	80
Vietnam	95	50	45	56	70

CONTOH SOAL KSM IPS MTS

Myanmar	56	75	45	80	65
---------	----	----	----	----	----

Dengan memperhatikan tingkat efisiensi produksi, maka yang sebaiknya barang yang dihasilkan di Indonesia, Filipina, Thailand, dan Vietnam dikhususkan pada...

- A. **Baju, Sepatu, Kancing, dan Kain**
- B. Kain, Kaos Kaki, Baju, dan Kancing
- C. Baju, Kain, Sepatu, dan Kaos Kaki
- D. Kancing, Sepatu, Kaos Kaki, dan Kain

18. Pada musim kemarau para petani di desa pergi merantau ke kota-kota besar seperti Jakarta dan Surabaya untuk mencari pekerjaan. Keberadaan kelompok petani pencari kerja ini dapat digolongkan sebagai...

- A. pengangguran nyata
- B. **pengangguran semu**
- C. pengangguran terbuka
- D. pengangguran konjungtural

19. Globalisasi ditandai dengan berkembangnya global village. Satu sama lain terhubung dengan mediasi teknologi internet dan jaringan. Pernyataan yang tidak tepat untuk menggambarkan global village adalah...

- A. pasar dan produksi di suatu negara saling tergantung sama lain
- B. meningkatnya masalah yang bersifat multinasional
- C. pranata sosial mengalami tentangan dan perubahan
- D. **berhentinya aliran pengetahuan dari luar wilayah**

20. Surat Ar Ruum Ayat 41 membahas tentang kerusakan lingkungan di daratan dan lautan. Pernyataan yang tidak tepat dengan surat tersebut adalah...

- A. banjir bandang
- B. **gempa bumi**
- C. tanah longsor
- D. kebakaran hutan

21. Sebagai ibu rumah tangga, Ibu Muslimah selalu berbelanja di pasar Barokah yang letaknya di kampung sebelah. Beberapa tahun kemudian, pasar Rahmah dibangun tidak jauh dari rumahnya, sehingga aktifitas berbelanja Ibu Muslimah beralih ke pasar Rahmah.

Contoh kasus tersebut dalam perspektif interaksi antarruang dikenal sebagai...

- A. apat dipindahkan
- B. **keterhubungan**

CONTOH SOAL KSM IPS MTS

- C. saling melengkapi
- D. **kesempatan antara**

22. Desa Darussalam dikenal sebagai desa yang makmur dengan kondisi sarana dan prasarannya memadai. Meski tidak mewah, namun keberadaan pasar, madrasah, masjid hingga akses jalan desa serta alat komunikasi memadai. Dalam perspektif interaksi antarruang kondisi ini memengaruhi ...

- A. Kemudahan menggunakan transportasi
- B. Meningkatkan taraf ekonomi masyarakat
- C. Kemudahan distribusi barang dan jasa
- D. Meningkatkan daya beli masyarakat desa

23. Perhatikan ayat al-Qur'an sebagai berikut!

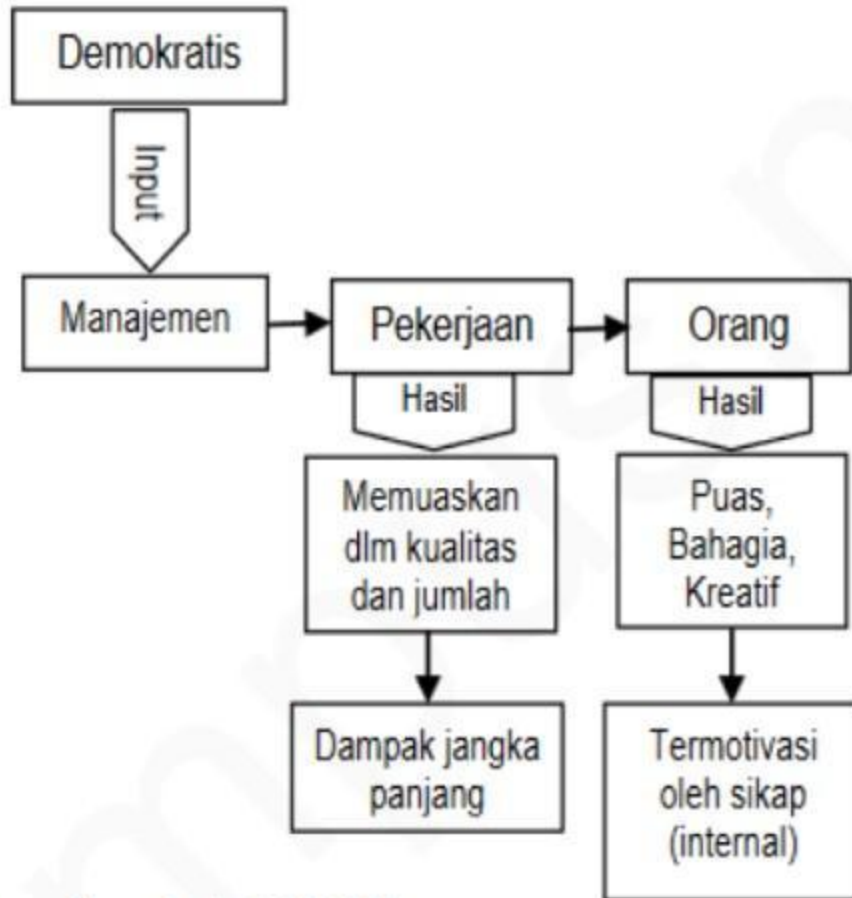
Hai orang-orang yang beriman hendaklah kamu jadi orang-orang yang selalu menegakkan (kebenaran) karena Allah, menjadi saksi dengan adil. Dan janganlah sekali-kali kebencianmu terhadap sesuatu kaum, mendorong kamu untuk berlaku tidak adil (QS. Al-Maidah : 8)

Dalam perspektif interaksi sosial, prinsip dasar yang dapat dijalankan dalam kehidupan masyarakat plural adalah...

- A. Menyediakan diri untuk menjadi saksi ahli perkara di masyarakat
- B. Berpegang teguh pada prinsip dasar kebenaran ketika bermasyarakat
- C. Tidak melakukan tindakan semena-mena kepada siapapun di masyarakat
- D. Menjalinkan persahabatan sejati kepada siapa saja ketika bermasyarakat

24. Perhatikan skema pola manajemen berorientasi manusia!

CONTOH SOAL KSM IPS MTS



Berdasarkan skema tersebut, prinsip Islam yang dapat diterapkan dalam mengelola lembaga sehingga memberikan hasil yang maksimal adalah...

- A. Prinsip amar ma'ruf nahi mungkar (Qs. Ali Imron 104, 110)
 - B. Prinsip pembinaan manusia (Qs. Al-Qashas : 77)
 - C. Prinsip bermusyawarah (al-Baqarah : 233)
 - D. Prinsip profesionalitas (Qs. Al-Bayyinah : 7)
25. Salah satu indikator yang menunjukkan keterhubungan pembangunan infrastruktur dan pengembangan ekonomi makro yang dilakukan oleh pemerintah adalah...
- A. Memperkuat keterjangkauan wilayah di sebuah negara
 - B. Melakukan ekspansi sumber-sumber ekonomi kewilayahan
 - C. Memperbesar aspek penyerapan dan sirkulasi barang dan orang
 - D. Memperluas dan memperkuat jaringan transportasi ekonomi
26. Secara sosiologi ekonomi, kebiasaan masyarakat Indoensia yang semakin gemar belanja di hypermarket, supermarket di mall menunjukkan gejala...
- A. Perubahan gaya hidup masyarakat

CONTOH SOAL KSM IPS MTS

- B. Artikulasi identitas sosial masyarakat
- C. Tingkat konsumerisme semakin tinggi
- D. Pola pikir pragmatis masyarakat tinggi

27. Perhatikan ayat al-Qur'an sebagai berikut :

“Sesungguhnya yang kamu sembah selain Allah itu tidak mampu memberikan rezki kepadamu; Maka mintalah rezki itu di sisi Allah, dan sembahlah dia dan bersyukurlah kepada-Nya. Hanya kepada-Nyalah kamu akan dikembalikan.” (QS. Al-Ankabut: 17)

Berdasarkan ayat tersebut, langkah tepat yang harus dilakukan Ibu Khadijah selaku pengusaha muslimah di bidang busana muslimah adalah...

- A. Memperluas jaringan agen-agen distribusi busana muslim
- B. Meningkatkan kualitas dan kuantitas produksi busana muslim
- C. Menambah jumlah karyawan dan tenaga ahli di busana muslim
- D. Menyerahkan sepenuhnya produk usahanya kepada Allah SWT

28. Perhatikan hadis berikut :

“Janganlah kamu mencegat kafilah-kafilah dan janganlah orang-orang kota menjual buat orang desa.” saya bertanya kepada Ibnu abbas,” Apa arti sabdanya.? “Janganlah kamu mencegat kafilah-kafilah dan jangan orang-orang menjadi perantara bagin ya”.(HR Bukhori)

Sebagai seorang pengusaha peci, bapak Sholeh menyadari betul makna dari hadis tersebut, maka tindakan yang harus dilakukannya adalah...

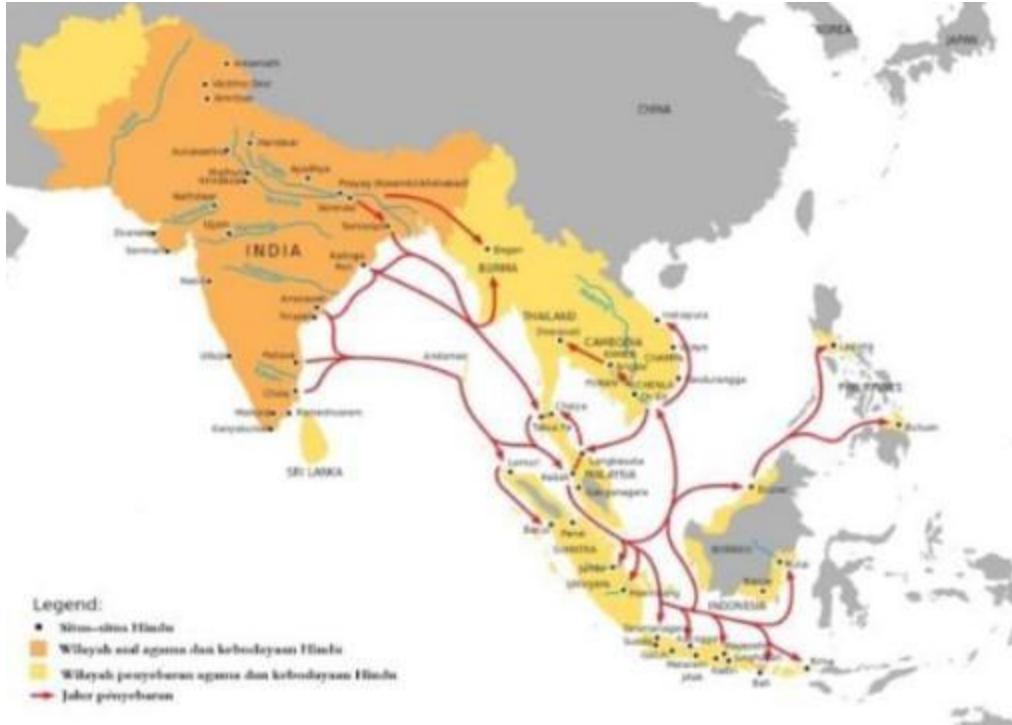
- A. Melakukan konsolidasi agen untuk menjadi distributor produknya
- B. Menguasai pasar peci di seluruh wilayah jawa dan bali secara tunggal
- C. Meminta kepada masing-masing pengusaha peci untuk bergabung
- D. Menghambat pengusaha peci di wilayahnya untuk menjual ke pihak lain

29. Kjoekenmoddingen merupakan sampah dapur yang merupakan penanda ditemukannya kehidupan masyarakat di masa bercocok tanam (food production). Penanda ini memberikan indikasi bahwa masyarakat pra-aksara...

- A. Mampu mengelola produk-produk pertanian
- B. Bergantung kepada kehidupan dan hasil-hasil laut
- C. Mampu mengembangkan produk dan hasil laut
- D. Bergantung kepada produk tanaman pertanian

30. Perhatikan peta berikut!

CONTOH SOAL KSM IPS MTS



Peta jalur masuk perkembangan agama Hindu dan Budha di Indonesia. Secara sosio religius menunjukkan bukti bahwa...

- A. Masuknya agama Hindu dan Budha di Indonesia melalui jalur transportasi laut
 - B. Adanya hubungan historis antara Indonesia dengan India
 - C. Adanya penguasaan raja di India terhadap kerajaan di Indonesia
 - D. Masuknya agama Hindu dan Budha di Indonesia dibawa kaum Brahma
31. Kemampuan mengkomodir nilai-nilai budaya dan kepercayaan lokal masyarakat di Indonesia disinyalir menjadi penanda keberhasilan Islamisasi di Indonesia khususnya di pulau Jawa, yang dilakukan dengan cara...
- A. Mengodifikasikan nilai-nilai Islam sehingga mudah dimengerti dan diterima
 - B. Mengadaptasikan nilai-nilai Islam ke dalam budaya dan ajaran agama lokal
 - C. Mengombinasikan nilai-nilai Islam dengan budaya dan ajaran agama lokal
 - D. Mengkulturasikan budaya lokal dengan nilai-nilai ajaran agama Islam
32. Perhatikan ayat berikut!

Ambillah mana yang mudah dilakukan dan suruhlah orang mengerjakan yang ma'ruf (tradisi yang baik), serta jangan pedulikan orang-orang yang bodoh (Qs. Al'Arof : 199)

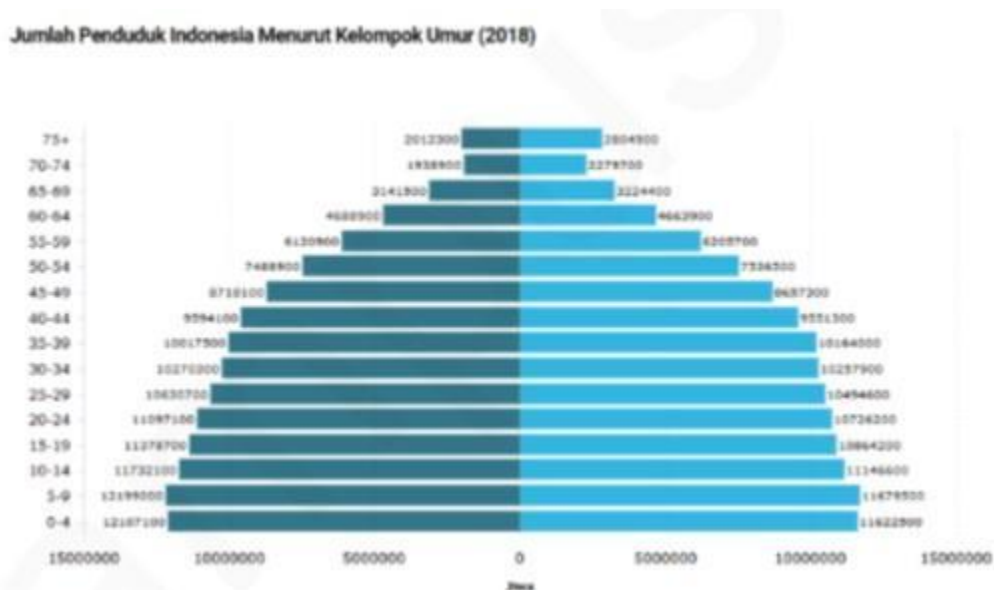
Dalam konteks sejarah perkembangan Islam di Indonesia terutama di Jawa, ayat tersebut secara operasional dapat dibuktikan melalui...

CONTOH SOAL KSM IPS MTS

- A. Larangan Sunan Kudus menyembelih Sapi bagi umat Islam di wilayah Kudus
 - B. Penggunaan perangkat gamelan dalam aktifitas dakwah Sunan Drajat
 - C. Kesepakatan Wali Songo membangun masjid demak sebagai pusat dakwah
 - D. Pengangkatan Raden Patah oleh Wali Songo sebagai representasi Penguasa Islam
33. Keberadaan pasar tunggal ASEAN yang dikenal dengan istilah Masyarakat Ekonomi Asean (MEA) secara ekonomi politis diarahkan untuk...
- A. Memperluas jaringan perdagangan antarnegara anggota ASEAN
 - B. Meningkatkan daya saing ekonomi ASEAN terhadap Tiongkok dan India
 - C. Menyatukan kepentingan ekonomi politis negara-negara ASEAN
 - D. Memperkuat keberadaan basis organisasi ASEAN di tingkat global
34. Hadirnya AFTA (Asean Free Trade Area) memberikan konsekuensi bagi bangsa-bangsa Asia Tenggara terutama Indonesia dalam hal...
- A. Penyiapan sumber daya manusia dengan keterampilan yang memadai
 - B. Membangkitkan produk-produk lokal yang memiliki nilai jual tinggi
 - C. Menghadirkan investor asing untuk menopang perekonomian bangsa
 - D. Menghadirkan tenaga konsultan ahli dalam mendamping UMKM
35. Memasuki abad ke-19 keberadaan VOC dibubarkan oleh kerajaan Belanda, karena dinilai mengalami kegagalan dalam hal perdagangan sehingga menjadikan kebangkrutan. Meski demikian secara politis, keberadaan VOC telah mampu melakukan...
- A. Membangun benteng pertahanan di sebagian besar kepulauan nusantara
 - B. Menundukkan kesultanan di nusantara dalam pengaruh kolonialisme
 - C. Melakukan penguasaan lahan milik kesultanan di wilayah nusantara
 - D. Membangun jaringan ekonomi kewilayahan di bawah pengaruh VOC
36. Perhatikan hadis berikut!
- “Diriwayatkan dari sahabat Anas; bahwa Nabi SAW ketika kembali dari bepergian, dan melihat dinding-dinding madinah beliau mempercepat laju untanya. Apabila beliau menunggangi unta maka beliau menggerakannya (untuk mempercepat) karena kecintaan beliau pada Madinah”. (HR. Bukhari, Ibnu Hibban, dan Tirmidzi).
- Dalam konteks sejarah perjuangan bangsa Indonesia, hadis tersebut dapat dilihat pada peristiwa...
- A. Seruan Takbir Bung Tomo dalam menyemangati perang 10 nopember 1945
 - B. Keluarnya Resolusi Jihad yang disampaikan Hadratus Syekh KH. Hasyim Asy'ari
 - C. Keluarnya fatwa kyai pesantren kepada santrinya untuk melawan Belanda
 - D. Keterlibatan para santri dan kyai menjadi tentara dan pejuang kemerdekaan

CONTOH SOAL KSM IPS MTS

37. Proses kolonialisme yang dilakukan Jepang terhadap Indonesia dinilai lebih mudah dibandingkan Belanda. Hal ini lebih disebabkan pihak Jepang berusaha memengaruhi rakyat Indonesia dengan cara...
- A. Memberikan janji kemerdekaan secepatnya kepada rakyat Indonesia
 - B. Mengajak para pemimpin Indonesia bekerjasama dengan pihak Jepang
 - C. Jepang memberikan bantuan material kepada organisasi masyarakat
 - D. Bahasa Indonesia diizinkan digunakan sebagai bahasa pengantar
38. Semangat kebangsaan yang muncul pada kaum terpelajar Indonesia di masa pergerakan mewujud dalam bentuk perjuangan organisasi pergerakan nasional, dengan tujuan ...
- A. Mengembangkan jiwa nasionalisme rakyat Indonesia
 - B. Mengembangkan strategi perjuangan bangsa Indonesia
 - C. Menumbuhkan semangat juang masyarakat Indonesia
 - D. Mendorong munculnya kesadaran masyarakat Indonesia
39. Perhatikan grafik sebagai berikut!



Berdasarkan grafik tersebut, program ekonomi yang tepat dilakukan oleh pemerintah adalah...

- A. Mengembangkan model usaha ekonomi kreatif
- B. Mengembangkan fasilitas kesehatan masyarakat
- C. Merevitalisasi balai latihan kerja masyarakat
- D. Membangun fasilitas pendidikan yang memadai

CONTOH SOAL KSM IPS MTS

40. Perhatikan grafik pada nomor 39!

Konsekuensi terbesar jika program pembangunan tidak memperhatikan keadaan sebagaimana pada grafik tersebut adalah ...

- A. Semakin menurunnya harapan hidup di usia tua
- B. Semakin banyaknya kelahiran bayi berjenis kelamin perempuan
- C. Semakin besar kemungkinan munculnya pengangguran usia muda
- D. Tidak tercukupinya fasilitas pendidikan bagi penduduk

41. Perhatikan kegiatan ekonomi berikut !

- 1) Pengembangan obyek wisata bahari
- 2) Budi daya perikanan darat
- 3) Budidaya tambak garam
- 4) Pertanian pasang surut
- 5) Pertanian Ladang

Kegiatan ekonomi yang di usahakan penduduk di daerah pantai di tunjukkan oleh angka

- A. 1), 2) dan 3)
- B. 1), 3) dan 4)
- C. 2), 3) dan 4)
- D. 3), 4) dan 5)

42. Pola pemukiman sesuai kondisi geografis di daerah yang kurang subur atau di dataran tinggi adalah.....

- A. Pola Linier
- B. Pola memanjang
- C. Pola menyebar
- D. Pola memusat

43. Salah satu pengaruh masuknya Hindu ke Indonesia di bidang sosial adalah terciptanya sistem kasta pada masyarakat Hindhu Indonesia.Tingkat kasta ksatria dalam masyarakat Hindu ditunjukkan pada pilihan....

- A. Pendeta, buruh dan guru
- B. Raja, tentara, dan buruh
- C. Petani, pendeta, dan seniman
- D. Raja, bangsawan, dan tentara

44. Perhatikan pernyataan berikut !

CONTOH SOAL KSM IPS MTS

- 1) Pemilik perusahaan mebel bekerja sama dengan toko mebel
- 2) Debat calon kandidat ketua OSIS berlangsung secara kompetitif
- 3) Pihak yang terlibat sengketa lahan menyelesaikan konflik dengan cara arbitrase
- 4) Suporter kesebelasan sepak bola AREMA Malang terlibat konflik

Proses sosial asosiatif dalam masyarakat di tunjukkan oleh angka....

- A. 1) dan 2)
- B. 1) dan 3)
- C. 2) dan 3)
- D. 3) dan 4)

45. Seorang anak yang masih berusia 10 tahun punya kebiasaan merokok, karena mencintainya perilaku ayahnya. Faktor yang mempengaruhi interaksi sosial berdasarkan ilustrasi tersebut adalah.....

- A. Identifikasi
- B. Simpati
- C. Sugesti
- D. **Imitasi**

46. Puspa seseorang siswa SMP di beri uang saku Rp 15.000,00 per hari. Namun untuk hari ini dia minta di tambah menjadi Rp 25.000,00 karena takut kalau kegiatan di sekolahnya sampai malam atau kehabisan bensin di Jalan. Tindakan puspa menambah uang saku di dasarkan pada motif.....

- A. Mencari keuntungan
- B. Berjaga jaga
- C. Spekulasi
- D. Sosial

47. Tipe gunung api yang banyak terdapat di Indonesia dapat dideskripsikan sebagai berikut....

- A. Maar
- B. Perisai
- C. Strato
- D. Kaldera

48. Perhatikan pernyataan berikut !

CONTOH SOAL KSM IPS MTS

- 1) Akar tanaman yang menerobos ke dalam celah atau retakan batuan mengakibatkan batuan menjadi rapuh dan hancur
- 2) Binatang membantu memperlebar dan mengikis retakan batuan serta menyebabkan lapisan batuan dibawah tanah terkorek dan melapuk
- 3) Pembukaan lahan untuk pertanian, pembangunan fisik yang menyebabkan batuan di permukaan tanah melapuk
- 4) Asam organik yang berasal dari tanaman mati dan akar tanaman dapat membantu dekomposisi batuan
- 5) Kotoran organik dari binatang serta organisme dapat membantu pelapukan batuan
- 6) Gas SO₂ dan NO hasil dari pembakaran bahan bakar fosil dapat larut dalam air dan dapat menimbulkan hujan asam yang menyebabkan pelapukan

Berdasarkan prosesnya pelapukan organis/biologis dapat dibagi menjadi dua yaitu pelapukan biofisik dan biokimia, dari pernyataan i atas yang merupakan proses pelapukan biofisik adalah...

- A. 1), 2) dan 3)
- B. 2), 3) dan 4)
- C. 3), 4), dan 5)
- D. 4), 5), dan 6)

49. Erosi yang disebabkan gelombang air laut yang mengikis pantai dapat dianalisa sebagai berikut

- A. Abrasi
- B. Deflasi
- C. Glasial
- D. Korasi

50. Perhatikan ciri ciri berikut !

- 1) Mengumpulkan makanan dari hutan
- 2) Mulai hidup menetap
- 3) Muncul sistem perkampungan
- 4) Tinggal di goa goa
- 5) Mengenal sistem barter

Ciri ciri kehidupan masyarakat pada masa bercocok tanam ditunjukkan oleh angka ...

- A. 1), 2) dan 3)
- B. 2), 3) dan 4)
- C. 2), 3) dan 5)
- D. 3), 4) dan 5)