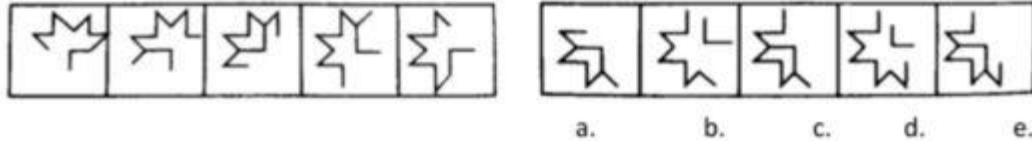


CONTOH SOAL PENALARAN UMUM

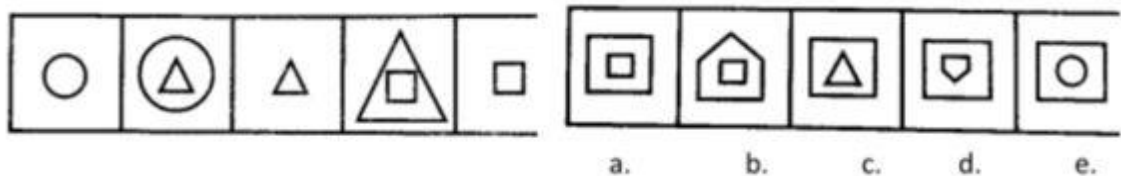
1. Perhatikan gambar



Jawaban C

Pada setiap langkah, satu buah segmen garis di akhir pada urutan searah jarum jam hilang. Akan tetapi di akhir urutan yang berlawanan arah jarum jam justru bertambah satu segmen garis baru. Huruf "L" diputar 90° searah jarum jam.

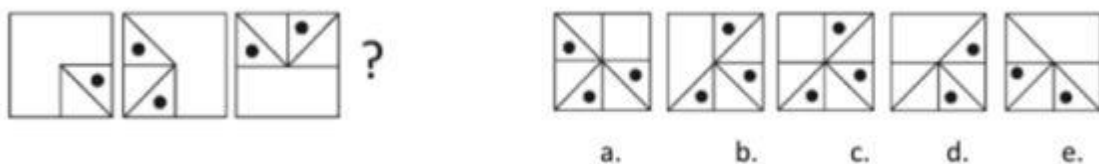
2. Perhatikan gambar



Jawaban D

Gambar pertama diperbesar menjadi gambar kedua yang di dalamnya ada sebuah bangun baru. Selanjutnya gambar yang diperbesar dihapus. Begitu seterusnya.

3. Perhatikan gambar



Jawaban C

Di dalam setiap kotak terdapat segitiga sama kaki dengan posisi selang seling dan salah satunya memiliki lingkaran kecil. Segitiga-segitiga tersebut berpindah 90° searah jarum jam dan bertambah satu.