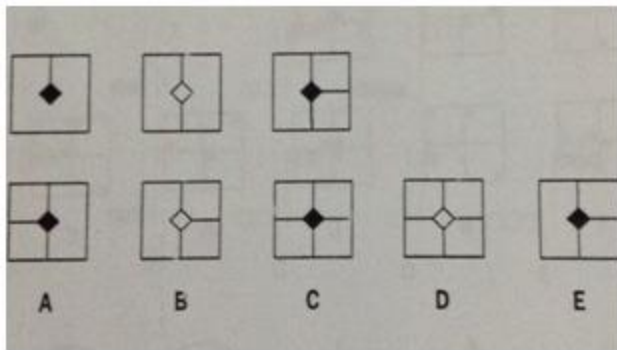


# Contoh Soal Psikotes Figural Gambar

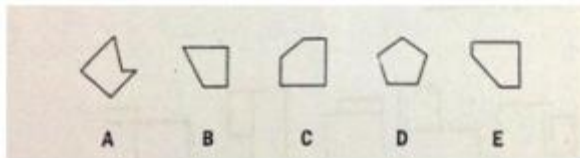
## A. Jawab pertanyaan berikut ini dengan benar!

Perhatikan dan coba jawab pertanyaan menggunakan gambar berikut ini! Setelah itu cocokkan jawabanmu dengan kunci jawaban yang terdapat pada pembahasan di bawah ini.


1. Kira-kira gambar yang mana yang tepat?



2. Coba perhatikan gambar di atas secermat mungkin



3. Coba perhatikan lebih teliti lagi



## Contoh Soal Psikotes Figural Gambar

### B. Kunci jawaban soal diatas

1. Berdasarkan gambar di atas jawaban yang paling tepat adalah D
2. Udah mikir lumayan keras belum? Nah, kalau diperhatikan dengan seksama dari kelima gambar di atas ada yang beda sendiri yaitu B. Yang lain berbentuk segi lima sedangkan B sendiri berbentuk segi empat. Gimana? Kamu *ngeh* ngga? Kalau belum ayo latihan lebih giat lagi!
3. Setelah memperhatikan dengan teliti kamu tentu bisa mengambil kesimpulan bahwa kotak 1 terbentuk dari kotak 2 dan 3, bukan? Maka jawaban yang paling tepat adalah B.